



선택과목

세 계 사

71. 다음 사진들은 고대 지중해 세계에서 발달한 어느 문명의 유적들이다. 이 문명에 대하여 바르게 추론한 것을 <보기>에서 모두 고른 것은? [2점]




프랑스의 수로교



로마의 콜로세움



폼페이의 도로



에스파냐의 수로

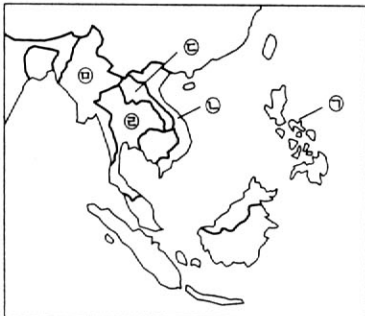
< 보 기 >

- ㄱ. 실용적인 분야에 뛰어난 재능을 보였다.
- ㄴ. 웅장함보다는 조화와 통일성 구현 등 예술성을 강조하였다.
- ㄷ. 이와 같은 유적은 제국의 중심은 물론 속주에서도 발견된다.
- ㄹ. 노동력이 부족하여 기계 및 기술 개발에 많은 힘을 쏟았다.

- ① ㄱ, ㄴ ② ㄱ, ㄷ ③ ㄴ, ㄷ ④ ㄴ, ㄹ ⑤ ㄷ, ㄹ


72. 다음과 같은 역사 전개 과정을 보이는 나라를 아래의 지도에서 찾으려면?

- 주변 국가들이 주로 인도 문화의 영향을 받은 것과는 달리 중국 문화의 영향을 강하게 받았다.
- 고대 이래 근대에 이르기까지 남방을 향해 영역이 계속 팽창되었다.
- 근·현대를 통해 오랫동안 프랑스의 식민 통치를 받았다.
- 1930년 호치민의 공산당 결성과 더불어 독립 운동이 증대한 전기를 맞았다.




- ① ㉠ ② ㉡ ③ ㉢ ④ ㉣ ⑤ ㉤

73. 다음 사진들과 관련된 문명에 대한 설명으로 옳지 않은 것은?



메카의 카바 신전 및 순례자들



인도의 타지마할

- ① 일신교를 철저히 신봉하며, 신 앞에서의 만민 평등을 주장하였다.
- ② 알코올, 알칼리, 아말감 등의 과학 용어가 이 문명권에서 유래되었다.
- ③ 코란은 마호메트에게 내린 신의 계시를 기록한 것으로 경전이며 율법서이다.
- ④ '한 손에는 칼, 한 손에는 코란'이라는 불관용 정책으로 대제국을 건설하였다.
- ⑤ 중세 유럽에 고대 그리스 철학을 소개하여 문화와 학문에 많은 영향을 미쳤다.

74. 다음은 1900년 전후 중국에서 발생한 두 운동을 설명한 것이다. <보기>에서 옳은 것을 모두 고른 것은?

- (가) 캉유웨이 등이 중심이 되어 입헌군주제의 도입 및 정치 제도의 전면적 개혁을 지향하였다.
- (나) 크리스트 교에 대한 반발이 거세어져, 의화단은 '부청멸양(扶清滅洋)'을 외치며 외세에 대한 배격을 주장하였다.

< 보 기 >

- ㄱ. (가)와 (나)는 제국주의 열강의 침략이 심화되는 가운데 전개되었다.
- ㄴ. (가)는 '위로부터의 개혁'인 반면, (나)는 민중 중심의 운동이었다.
- ㄷ. (가)와 (나)는 모두 청조 정부의 타도를 주장하였다.
- ㄹ. (가)는 일본 측으로부터, (나)는 미국 측으로부터 은밀한 지원을 받았다.

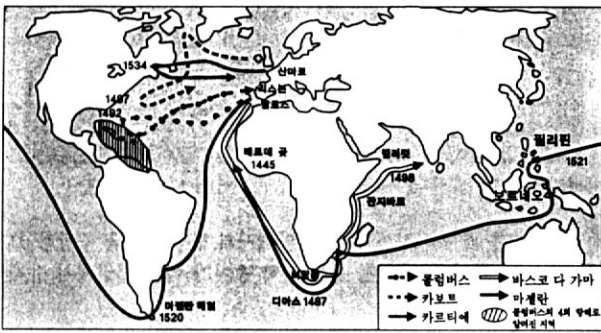
- ① ㄱ, ㄴ ② ㄱ, ㄷ ③ ㄴ, ㄷ ④ ㄴ, ㄹ ⑤ ㄷ, ㄹ

75. 다음과 같은 상황에 대처하기 위하여 고려될 수 있는 정책으로 가장 바람직한 것은?

국민 소득은 1929년에서 1932년 사이에 거의 절반으로 줄었다. 자동차의 수출은 1929년 5억 4천만 달러에서 1932년 7천 6백만 달러로 감소하였다. 밀의 수출도 2억 달러에서 1932년에는 5백만 달러로 감소하였다. 실업자 수도 1929년 50만 명에서 1932년 1,500만 명으로 급증하여 전 노동 인구의 3분의 1이 실업 상태에 빠졌다.

- ① 수출을 늘리기 위해 금본위 제도를 시행한다.
- ② 국민들의 불만을 밖으로 돌리기 위해 침략 전쟁을 감행한다.
- ③ 농산물 가격 안정을 위해 토지를 국유화하여 집단 농장제를 실시한다.
- ④ 자급 자족 경제를 목표로 철저한 고립주의를 실시하고 관세 장벽을 쌓는다.
- ⑤ 실업자 구제 및 경기 회복을 위해 공공 사업에 대한 정부의 지출을 늘린다.

76. 다음의 지도에서 보이는 활동에 관한 설명으로 적절하지 않은 것은? [1점]



- ① 지리학, 천문학, 항해술의 발달로 가능하였다.
- ② 옥수수, 토마토, 감자 등의 작물이 유럽에 전래되었다.
- ③ 유럽 경제의 무게 중심이 대서양에서 지중해로 이동하였다.
- ④ 막대한 금과 은의 유입으로 유럽에서 가격 혁명이 초래되었다.
- ⑤ 천연두와 홍역 등 전염병의 유입으로 아메리카 대륙의 많은 사람들이 죽었다.

77. 다음은 문호 개방을 전후한 시기 일본의 정치 상황이다. 이에 의거한 추론으로 옳은 것을 <보기>에서 모두 고른 것은?

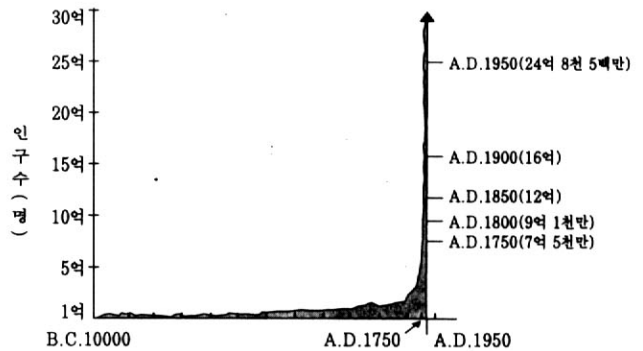
- 19세기 초반 막부는 수차에 걸쳐 서양 선박에 대한 격퇴령을 내렸다.
- 미국의 페리 함대가 문호 개방을 요구하자, 막부는 유력 무사층에게 대응 방향을 자문하였다.
- 1850년대 미국 등 여러 나라와 치외 법권 및 협정 관세를 주요 내용으로 하는 조약을 맺었다.
- 문호 개방 이후 막부의 정책에 대한 반대 세력이 결집되어 메이지 유신의 주도 세력이 되었다.

<보 기>

- ㄱ. 19세기 초 일본 해안에는 막부의 강력한 정책으로 서양 선박이 접근하지 않았다.
- ㄴ. 문호 개방으로 일본의 정치 상황은 급속히 동요되기 시작했다.
- ㄷ. 일본의 문호 개방은 자주적인 선택이 아니라 서양 세력의 압력에 굴복한 결과였다.
- ㄹ. 일본은 여타 동아시아 나라들과는 달리 처음부터 서양 제국과 평등한 조약을 체결했다.

- ① ㄱ, ㄴ ② ㄱ, ㄷ ③ ㄴ, ㄷ ④ ㄴ, ㄹ ⑤ ㄷ, ㄹ

78. 인구의 증가는 의식주에 필요한 물자를 생산해 내는 인간의 능력과 밀접한 관련이 있다. 아래의 그래프에서 나타난 급격한 변화의 계기가 되는 역사적 대사건은?



세계 인구의 변화

- ① 영국의 산업 혁명 ② 신석기 혁명
- ③ 아시아의 녹색 혁명 ④ 프랑스의 시민 혁명
- ⑤ 러시아의 공산 혁명

79. 다음 역사적 사실들의 공통된 성격으로 가장 적절한 것은? [1점]

- 7~9세기 동안 일본은 견수사(遣隋使)와 견당사(遣唐使)를 파견하였다.
- 17세기 말에 즉위한 러시아의 표트르 대제는 대대적인 개혁을 단행하였다.
- 1881년 조선은 일본으로 신사 유람단을 파견하였다.
- 20세기 초 '베트남 유신회'가 중심이 되어 동유 운동을 전개하였다.

- ① 반제국주의 운동 ② 반봉건주의 운동
- ③ 근대적 조약의 체결 ④ 선진 외국 문물의 도입
- ⑤ 대외 전쟁을 위한 정보 수집

80. 12세기 말~13세기 초 동아시아의 정세를 나타낸 지도이다. 이 지도와 관련된 설명으로 옳지 않은 것은? [2점]



- ① ㉠은 북방 민족이 세운 왕조였다.
- ② ㉡에서는 국제적이고 귀족적인 문화가 꽃피었다.
- ③ ㉢에서는 불교가 국가의 보호를 받으며 발달하였다.
- ④ ㉠과 ㉡ 사이에는 활발한 교역이 이루어졌다.
- ⑤ ㉢, ㉡에서는 무인 정권이 수립되어 있었다.

* 확인 사항

- 문제지와 답안지의 해당란을 정확히 기입(표기)했는지 확인하십시오.
- 문제지는 답안지와 함께 제출합니다. 답안지의 표기가 끝나면 답안지는 오른쪽, 문제지는 왼쪽에 놓으시오.